

Questionnements	Objectifs d'apprentissage
<p style="text-align: center;">Quels sont les fondements du <u>commerce international</u> et de l'<u>internationalisation</u> de la production ?</p>	<ol style="list-style-type: none"> 1. Comprendre le rôle des <u>dotations factorielles</u> et technologiques (<u>avantages comparatifs</u>) dans les échanges commerciaux et la <u>spécialisation</u> internationale. 2. Comprendre le commerce entre pays comparables (<u>différenciation des produits</u>, qualité des produits, et fragmentation de la <u>chaîne de valeur</u>). 3. Comprendre que la productivité des firmes sous-tend la <u>compétitivité</u> d'un pays, c'est-à-dire son aptitude à exporter. 4. Comprendre l'<u>internationalisation de la chaîne de valeur</u> et savoir l'illustrer. 5. Comprendre les <u>effets induits par le commerce international</u> : gains moyens en termes de baisse de <u>prix</u>, réduction des <u>inégalités</u> entre pays, accroissement des inégalités de revenus au sein de chaque pays ; 6. Comprendre les termes du débat entre <u>libre-échange</u> et <u>protectionnisme</u>.

Plan d'un cours possible

<p><u>A. Aux fondements théoriques discutés ...et discutables ?</u></p> <ol style="list-style-type: none"> 1. Comprendre le rôle des dotations factorielles et technologiques (avantages comparatifs) dans les échanges commerciaux et la spécialisation internationale. → 1. 2. Comprendre les termes du débat entre libre-échange et protectionnisme. → 6. 	<p><u>B. ...s'ajoutent des fondements empiriques ...</u></p> <ol style="list-style-type: none"> 1. Comprendre l'internationalisation de la chaîne de valeur et savoir l'illustrer. → 4. 2. Comprendre le commerce entre pays comparables (différenciation des produits, qualité des produits, et fragmentation de la chaîne de valeur) → 2. 	<p><u>C. ... devenus incontournables ? Des fondements discutés.</u></p> <ol style="list-style-type: none"> 1. Comprendre que la productivité des firmes sous-tend la compétitivité d'un pays, c'est-à-dire son aptitude à exporter. → 3. 2. Comprendre les effets induits par le commerce international : gains moyens en termes de baisse de prix, réduction des inégalités entre pays, accroissement des inégalités de revenus au sein de chaque pays. → 5.
---	--	--

Dossier 1

Introduction / les fondements du commerce international et de l'internationalisation de la production (→ De quoi parle-t-on ?)

<u>Sensibilisation et prénotions</u>	<u>Commerce international</u>		<u>Secteurs institutionnels* concernés</u>	
	Oui	Non	Territoire national	Reste Du Monde
1. Boulevard St- Michel, dans une boutique, un touriste chinois achète un teeshirt « Paris Sorbonne » fabriqué... en Chine !				
2. Renault rapatrie des véhicules fabriqués par Renault en Roumanie				
3. Le ministère de la défense achète des uniformes fabriqués au Maroc				
4. Airbus assemble à Blagnac des pièces détachées venues de Broughton (G.B.)				
5. E. Daho, chanteur parisien, mange une pizza chez un traiteur, commerçant, italien lors d'un weekend à Rome.				
Question : Dans quelle mesure <u>la France</u> est un acteur du commerce international ?				

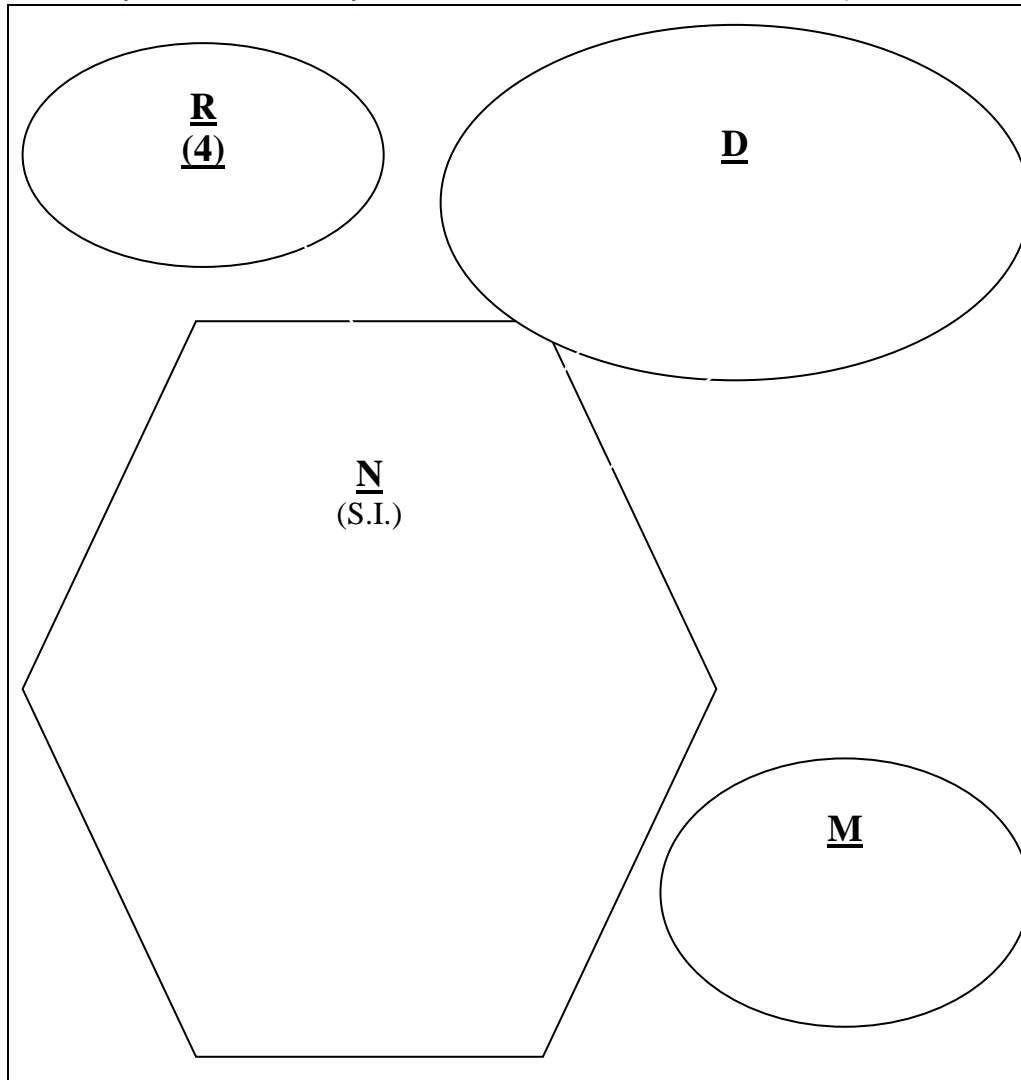
Travail à réaliser : Rechercher les définitions d'**agents économiques résidents et non-résidents / exportations / importations** et les intégrer à la question ci-dessus. + Internationalisation (processus); taux d'exportation + taux d'importation ; degré d'ouverture

Introduction / les fondements du commerce international et de l'internationalisation de la production (→ De quoi parle-t-on ?)

A. Le commerce « international » est mis en œuvre par des acteurs résidant sur un territoire...

→ 1. schéma S.I. + notion de résidents

→ 2. Importations + exportations comme flux de biens (et de services ?)



1. On appellera « N » la NATION représentant l'économie nationale. Rappelez les Secteurs Institutionnels (S.I.) économiques résidents du territoire « National ». Positionnez-les dans l'hexagone **2.** Les 3 cercles symbolisent le reste du monde (R, D et M) soient des économies de taille et de développement différents. Quels sont les secteurs institutionnels qui y résident ? En quoi alors le RDM est-il considéré comme un agent économique fictif ? **3.** Par des flèches, symbolisez les échanges vus dans le tableau précédent (n°1 à 5) **4.** Pourquoi des S.N.F. de « N » seraient-elles désireuses d'investir dans « D » la zone économique la plus développée ? En quoi cela peut-il provoquer un commerce intra firme ? (cf. **échange type n°3**) Pourquoi peut-on imaginer des relations avec « R » zone économique en développement et source d'échanges interbranches ? **5.** En quoi les Etats doivent-ils avoir choisi l'option du **libre-échange** et renoncer au moins partiellement au **protectionnisme** ? Pourquoi certaines conditions institutionnelles peuvent-elles conduire à des relations privilégiées ? En quoi cela devrait forcément nécessiter des organismes capables d'institutionnaliser les conflits potentiels ?

→ **Bilan :** Le commerce international est mal nommé puisqu'il ne s'agit pas d'échanges **entre** pays (inter-national) mais entre S_____ l_____ r_____ n'ayant pas forcément la n_____ du territoire où ils agissent. Ce commerce n'a même pas besoin de s'effectuer entre deux **frontières nationales** (~~inter~~-national).

B. ... les échanges avec le RDM apparaissant comme des éléments « incontournables » (?) d'une économie nationale.

<u>Sensibilisation et prénotions</u>	Ressources (R)		Emplois (E)		Effets pour les agents résidents → Quelle utilisation ? → Quels avantages ?
	France	RDM	France	RDM	
A. Achats de pétrole en provenance d'Arabie Saoudite					
B. Achats de robots industriels en provenance du Japon					
C. Achats de légumes en provenance d'Espagne					
D. Vente de vins français vers les Etats Unis					
E. Vente d'avions à l'Allemagne					
F. Vente de blé à l'Italie					

→ 1. Des Ressources ...

Rappel : place initiale des importations dans l'équation Ressources / Emplois ?

❖ Pour les « consommateurs » ou plus largement du côté de la demande ? **Ex. Ci-dessus ?**

→ 2. ... des « emplois » (... de ressources).

Rappel : comme contribution positive à la croissance...

❖ ... sous condition de compétitivité des acteurs (microéconomique) et du « territoire » (macroéconomique)

→ **Bilan :** Les exportations font l'objet d'une [offre / demande] des résidents et d'une _____ des (non-résidents / résidents) tandis que les importations représentent la demande des _____ et l'offre des (non-résidents / résidents).

Les chiffres clés du commerce extérieur en 2019

La France est le **5^e exportateur mondial** de biens et services



128 373
Entreprises françaises exportatrices



Exportations de biens :
508 Md€
(+3 % par rapport à 2018)



Importations de biens :
567 Md€
(+2 % par rapport à 2018)

Déficit commercial en biens : **59 Md€**
(63 Md€ en 2018)

Déficit hors énergie et matériel militaire : 34 Md€



Principaux clients

Allemagne : 70 Md€
 Etats-Unis : 42 Md€
 Italie : 38 Md€
 Espagne : 37 Md€

Principaux fournisseurs

Allemagne : 85 Md€
 Chine : 54 Md€
 Italie : 44 Md€
 Etats-Unis : 39 Md€

UE = 59 % des exportations françaises



Principaux secteurs excédentaires

Aéronautique et spatial : 31 Md€
 Chimie, parfums, cosmétiques : 15 Md€
 Agroalimentaire : 8 Md€
 Pharmaceutique : 6 Md€

Principaux secteurs déficitaires

Energie : 45 Md€
 Electronique : 17 Md€
 Automobile : 15 Md€
 Textile, habillement et cuir : 12 Md€



Exportations de services : **251 Md€**
Importations de services : **229 Md€**
Excédent commercial en services : **22 Md€**



Déficit courant
(biens, services, négoce, revenus dont revenus d'IDE) :
18 Md€ (0,8 % du PIB)

Sources : Douanes françaises, Banque de France, OCDE

RAPPORT ANNUEL DU COMMERCE EXTÉRIEUR DE LA FRANCE • Février 2020

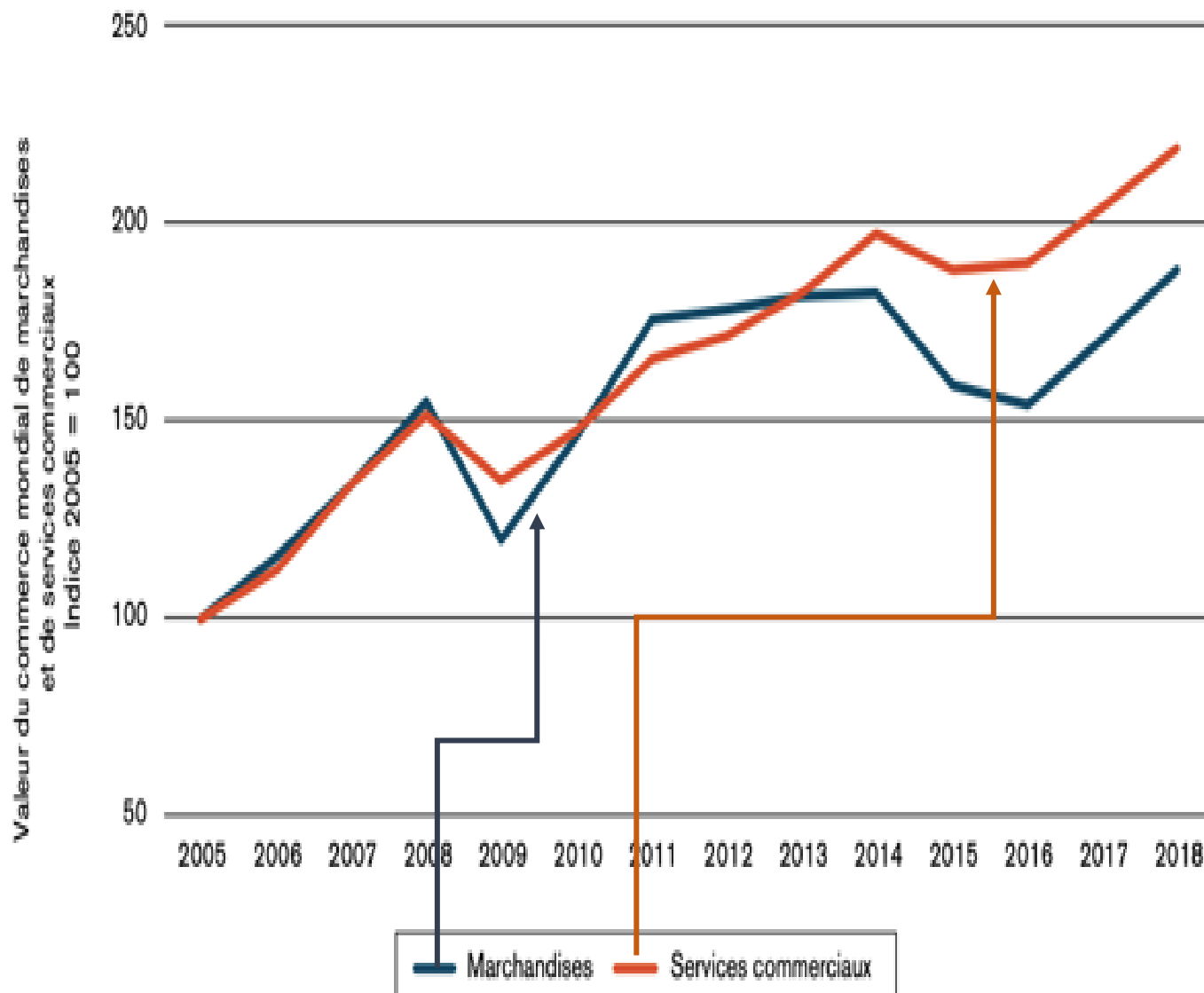
Situation de l'économie nationale vis-à-vis du RDM

En 2019 les agents résidents exportaient *[plus/ moins]* de biens qu'ils n'en _____. On parlera alors d'un _____ commercial. Cependant ils _____ davantage de services qu'ils n'en importaient d'où un _____. On notera que le coefficient de proportionnalité Biens / Services pour les exportations ou les importations est environ de _____. Ainsi le cumul des deux soldes est *[excédentaire/ déficitaire]* puisque les échanges de biens ont une contribution positive au déficit courant tandis que les services ont une contribution _____ mais qui ne compense pas.

La compensation du solde du négoce et des _____ ne fait que ramener le déficit à _____ Md€.

On veillera à ne pas confondre un **déficit courant** de ces échanges avec le **déficit budgétaire**. Le premier concerne l'ensemble des S.I., il est purement un écart de flux tandis que le second concerne un S.I. en particulier : *les* _____. Il est le reflet d'un écart Recettes/dépenses.

Evolution du commerce mondial de marchandises et de services commerciaux
(Indices base ? _____)*



Source : Estimations OMC-CNUCED-ITC

*Le commerce mondial correspond à la moyenne des exportations et importations mondiales

Vrai ou Faux

*

1. En tendance le commerce mondial progresse **V / F**
2. En tendance le commerce mondial de services a progressé plus vite que celui de marchandises **V / F**
3. Malgré la tendance, le commerce mondial connaît des reculs (ex.2008/2009) **V / F**
4. En 13 ans le commerce de services a été plus que multiplié par 2 **V / F**
5. En 2018 le commerce de marchandises avait progressé de 90 % environ par rapport à 2005 **V / F**
6. Si le PIB mondial progresse sur la période moins vite que le commerce mondial ce dernier prendra de l'importance dans la croissance économique **V / F**

Les chiffres clés du commerce extérieur en 2019

La France est le **5^e exportateur mondial** de biens et services



128 373
Entreprises françaises exportatrices

Exportations de biens :
508 Md€
(+3 % par rapport à 2018)



Importations de biens :
567 Md€
(+2 % par rapport à 2018)

Déficit commercial en biens : **59 Md€**
(63 Md€ en 2018)

Déficit hors énergie et matériel militaire : **34 Md€**

Principaux clients

Allemagne : 70 Md€
 Etats-Unis : 42 Md€
 Italie : 38 Md€
 Espagne : 37 Md€

Principaux fournisseurs

Allemagne : 85 Md€
 Chine : 54 Md€
 Italie : 44 Md€
 Etats-Unis : 39 Md€

UE = 59 % des exportations françaises

Principaux secteurs excédentaires

Aéronautique et spatial : 31 Md€
 Chimie, parfums, cosmétiques : 15 Md€
 Agroalimentaire : 8 Md€
 Pharmaceutique : 6 Md€

Principaux secteurs déficitaires

Energie : 45 Md€
 Electronique : 17 Md€
 Automobile : 15 Md€
 Textile, habillement et cuir : 12 Md€

Exportations de services : **251 Md€**
Importations de services : **229 Md€**
Excédent commercial en services : **22 Md€**

Déficit courant
(biens, services, négoce, revenus dont revenus d'IDE) :
18 Md€ (0,8 % du PIB)

Sources : Douanes françaises, Banque de France, OCDE

RAPPORT ANNUEL DU COMMERCE EXTÉRIEUR DE LA FRANCE • Février 2020

Situation de l'économie nationale vis-à-vis du RDM

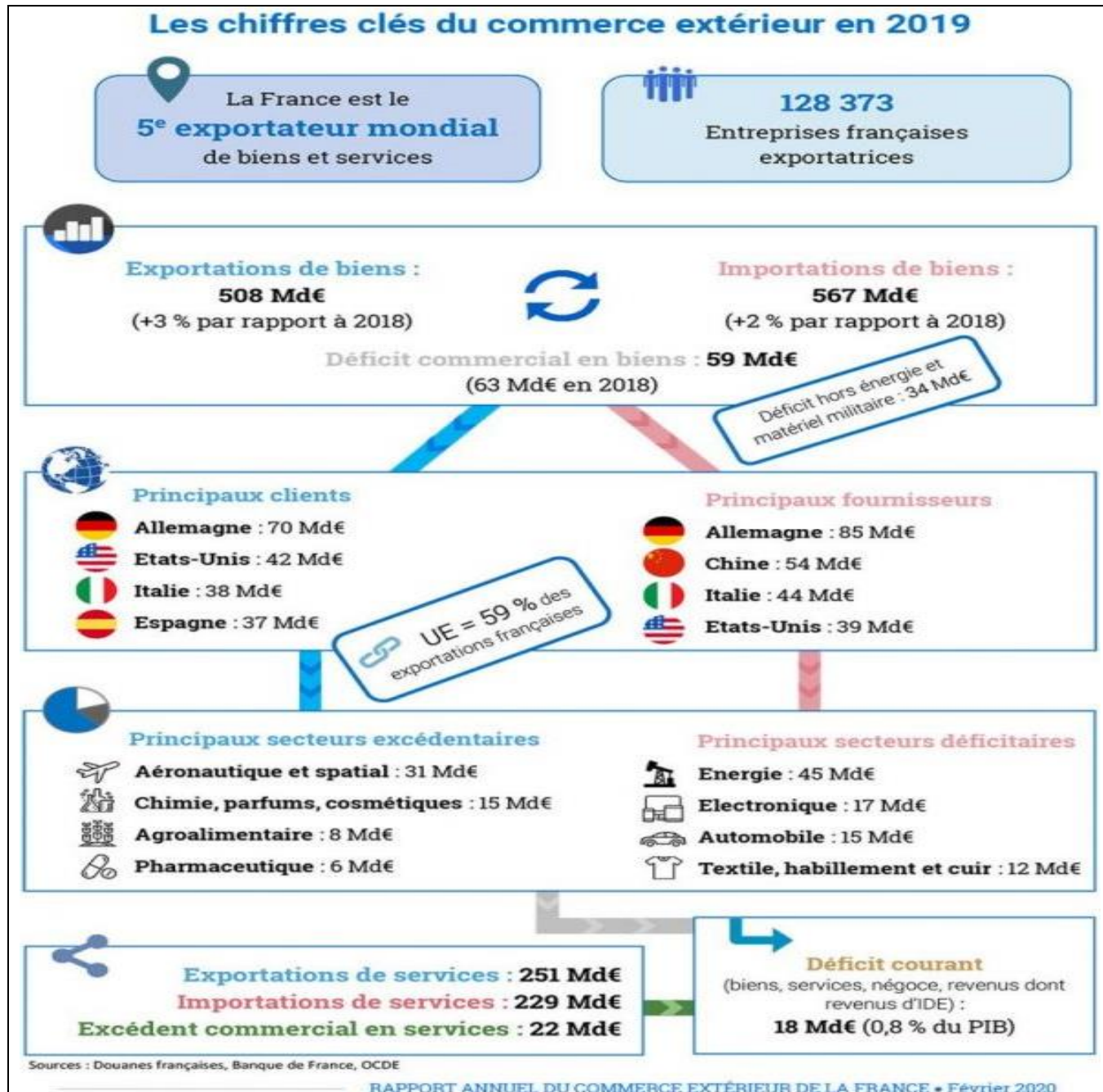
En 2019 les agents résidents exportaient d'abord vers des pays *[développés / en développement]*.

Exemple _____.

Définition : Les économistes distinguent 3 secteurs d'activité qui sont le secteur _____, le secteur _____ et le secteur _____.

Chaque secteur est lui-même constitué de branches d'activités (appelés abusivement secteurs ! ex. _____) dont la production correspondant à la production d'un type de bien(s) ou service(s).

Ainsi le commerce international se structure autour d'un **commerce interbranche** (ex. _____ (excédent 8 Md€) made in France contre de l'_____ (déficit 45 Md€) et **intrabranche** (ex. voitures made in France / voitures made in Germany)
Ex. Quand un agriculteur français exporte du vin en Asie et que « la France » importe des jouets il s'agit de commerce _____ **branche**.



Q.1. 128 373 entreprises exportatrices en 2019 c'est beaucoup ? Commentez – En quoi l'information à gauche est-elle plus révélatrice ? En quoi cependant la formulation « La France... » reste approximative ?

Q.2. Calculez l'évolution du déficit commercial entre 2018 et 2019 et interprétez économiquement et statistiquement.

Q.3. Calculez l'Indice des exportations des principaux secteurs excédentaires, base 100
Aéronautique
Calculez l'Indice des importations principaux secteurs déficitaires, base 100 Automobile.
Donnez une lecture d'un résultat.

Q.4. Montrez que le déficit commercial est partiellement compensé par l'excédent des services. Mesurez par déduction les autres « compensations* » de l'année 2019 en posant l'équation Solde courant = Solde commercial + solde des services + solde « Autres »
*négoce, revenus...

Situation de l'économie nationale vis-à-vis du RDM

En 2019 les agents résidents exportaient [*plus/ moins*] de biens qu'ils n'en _____. On parlera alors d'un _____ commercial. Cependant ils _____ davantage de services qu'ils n'en importaient d'où un _____. On notera que le coefficient de proportionnalité Biens / Services pour les exportations ou les importations est environ de _____. **Ainsi** le cumul des deux soldes est [**excédentaire/ déficitaire**] puisque les échanges de biens ont une contribution positive au déficit courant tandis que les services ont une contribution _____ mais qui ne compense pas.

La compensation du solde du négoce et des _____ ne fait que ramener le déficit à _____ Md€.

On veillera à ne pas confondre un **déficit courant** de ces échanges avec le **déficit budgétaire**. Le premier concerne l'ensemble des S.I., il est purement un écart de flux tandis que le second concerne un S.I. en particulier : les _____. Il est le reflet d'un écart Recettes/dépenses.

En 2019 les agents résidents exportaient d'abord vers des pays [*développés / en développement*].

Exemple _____. **Définition** : Les économistes distinguent 3 secteurs d'activité qui sont le secteur _____, le secteur _____ et le secteur _____.

Chaque secteur est lui-même constitué de branches d'activités (appelés abusivement secteurs ! *ex.* _____) dont la production correspondant à la production d'un type de bien(s) ou service(s).

Ainsi le commerce international se structure autour d'un **commerce interbranche** (*ex.* _____ (excédent 8 Md€) made in France contre de l'_____ (déficit 45 Md€) et **intrabranches** (*ex.* voitures made in France / voitures made in Germany)

Ex. Quand un agriculteur français exporte du vin en Asie et que « la France » importe des jouets il s'agit de commerce _____branche.

Situation de l'économie nationale vis-à-vis du RDM

En 2019 les agents résidents exportaient [*plus/ moins*] de biens qu'ils n'en _____. On parlera alors d'un _____ commercial. Cependant ils _____ davantage de services qu'ils n'en importaient d'où un _____. On notera que le coefficient de proportionnalité Biens / Services pour les exportations ou les importations est environ de _____. **Ainsi** le cumul des deux soldes est [**excédentaire/ déficitaire**] puisque les échanges de biens ont une contribution positive au déficit courant tandis que les services ont une contribution _____ mais qui ne compense pas.

La compensation du solde du négoce et des _____ ne fait que ramener le déficit à _____ Md€.

On veillera à ne pas confondre un **déficit courant** de ces échanges avec le **déficit budgétaire**. Le premier concerne l'ensemble des S.I., il est purement un écart de flux tandis que le second concerne un S.I. en particulier : les _____. Il est le reflet d'un écart Recettes/dépenses.

En 2019 les agents résidents exportaient d'abord vers des pays [*développés / en développement*].

Exemple _____. **Définition** : Les économistes distinguent 3 secteurs d'activité qui sont le secteur _____, le secteur _____ et le secteur _____.

Chaque secteur est lui-même constitué de branches d'activités (appelés abusivement secteurs ! *ex.* _____) dont la production correspondant à la production d'un type de bien(s) ou service(s).

Ainsi le commerce international se structure autour d'un **commerce interbranche** (*ex.* _____ (excédent 8 Md€) made in France contre de l'_____ (déficit 45 Md€) et **intrabranches** (*ex.* voitures made in France / voitures made in Germany)

Ex. Quand un agriculteur français exporte du vin en Asie et que « la France » importe des jouets il s'agit de commerce _____branche.

<u>Sensibilisation et prénotions</u>	<u>Commerce international</u>		<u>Secteurs institutionnels* concernés</u>	
	Propositions	Oui	Non	Territoire national
1. Boulevard St- Michel, dans une boutique, un touriste chinois achète un teeshirt « Paris Sorbonne » fabriqué... en Chine !				
2. Renault rapatrie des véhicules fabriqués par Renault en Roumanie				
3. Le ministère de la défense achète des uniformes fabriqués au Maroc				
4. Airbus assemble à Blagnac des pièces détachées venues de Broughton (G.B.)				
5. E. Daho, chanteur parisien, mange une pizza chez un traiteur, commerçant, italien lors d'un weekend à Rome.				

<u>Sensibilisation et prénotions</u>	<u>Commerce international</u>		<u>Secteurs institutionnels* concernés</u>	
	Propositions	Oui	Non	Territoire national
1. Boulevard St- Michel, dans une boutique, un touriste chinois achète un teeshirt « Paris Sorbonne » fabriqué... en Chine !				
2. Renault rapatrie des véhicules fabriqués par Renault en Roumanie				
3. Le ministère de la défense achète des uniformes fabriqués au Maroc				
4. Airbus assemble à Blagnac des pièces détachées venues de Broughton (G.B.)				
5. E. Daho, chanteur parisien, mange une pizza chez un traiteur, commerçant, italien lors d'un weekend à Rome.				

<u>Sensibilisation et prénotions</u>	<u>Commerce international</u>		<u>Secteurs institutionnels* concernés</u>	
	Propositions	Oui	Non	Territoire national
1. Boulevard St- Michel, dans une boutique, un touriste chinois achète un teeshirt « Paris Sorbonne » fabriqué... en Chine !				
2. Renault rapatrie des véhicules fabriqués par Renault en Roumanie				
3. Le ministère de la défense achète des uniformes fabriqués au Maroc				
4. Airbus assemble à Blagnac des pièces détachées venues de Broughton (G.B.)				
5. E. Daho, chanteur parisien, mange une pizza chez un traiteur, commerçant, italien lors d'un weekend à Rome.				

<u>Sensibilisation et prénotions</u>	<u>Commerce international</u>		<u>Secteurs institutionnels* concernés</u>	
	Propositions	Oui	Non	Territoire national
1. Boulevard St- Michel, dans une boutique, un touriste chinois achète un teeshirt « Paris Sorbonne » fabriqué... en Chine !				
2. Renault rapatrie des véhicules fabriqués par Renault en Roumanie				
3. Le ministère de la défense achète des uniformes fabriqués au Maroc				
4. Airbus assemble à Blagnac des pièces détachées venues de Broughton (G.B.)				
5. E. Daho, chanteur parisien, mange une pizza chez un traiteur, commerçant, italien lors d'un weekend à Rome.				

<u>Sensibilisation et prénotions</u>	Ressources		Emplois		Effets pour les agents résidents → Utilisation ? → Intérêts ?
	France	RDM	France	RDM	
A. Achats de pétrole en provenance d'Arabie Saoudite					
B. Achats de robots industriels en provenance du Japon					
C. Achats de légumes en provenance d'Espagne					
D. Vente de vins français vers les Etats Unis					
E. Vente d'avions à l'Allemagne					
F. Vente de blé à l'Italie					

S

<u>Sensibilisation et prénotions</u>	Ressources		Emplois		Effets pour les agents résidents → Utilisation ? → Intérêts ?
	France	RDM	France	RDM	
A. Achats de pétrole en provenance d'Arabie Saoudite					
B. Achats de robots industriels en provenance du Japon					
C. Achats de légumes en provenance d'Espagne					
D. Vente de vins français vers les Etats Unis					
E. Vente d'avions à l'Allemagne					
F. Vente de blé à l'Italie					

Les chiffres clés du commerce extérieur en 2019

La France est le
5^e exportateur mondial
de biens et services

128 373
Entreprises françaises
exportatrices

Exportations de biens :
508 Md€
(+3 % par rapport à 2018)

Importations de biens :
567 Md€
(+2 % par rapport à 2018)

Déficit commercial en biens : **59 Md€**
(63 Md€ en 2018)

Déficit hors énergie et
matériel militaire : 34 Md€

Principaux clients

Allemagne : 70 Md€
 Etats-Unis : 42 Md€
 Italie : 38 Md€
 Espagne : 37 Md€

Principaux fournisseurs

Allemagne : 85 Md€
 Chine : 54 Md€
 Italie : 44 Md€
 Etats-Unis : 39 Md€

UE = 59 % des
exportations françaises

Principaux secteurs excédentaires

Aéronautique et spatial : 31 Md€
 Chimie, parfums, cosmétiques : 15 Md€
 Agroalimentaire : 8 Md€
 Pharmaceutique : 6 Md€

Principaux secteurs déficitaires

Energie : 45 Md€
 Electronique : 17 Md€
 Automobile : 15 Md€
 Textile, habillement et cuir : 12 Md€

Exportations de services : **251 Md€**
Importations de services : **229 Md€**
Excédent commercial en services : **22 Md€**

Déficit courant
(biens, services, négoce, revenus dont
revenus d'IDE) :
18 Md€ (0,8 % du PIB)

Sources : Douanes françaises, Banque de France, OCDE

RAPPORT ANNUEL DU COMMERCE EXTÉRIEUR DE LA FRANCE • Février 2020

Les chiffres clés du commerce extérieur en 2019

La France est le
5^e exportateur mondial
de biens et services

128 373
Entreprises françaises
exportatrices

Exportations de biens :
508 Md€
(+3 % par rapport à 2018)

Importations de biens :
567 Md€
(+2 % par rapport à 2018)

Déficit commercial en biens : **59 Md€**
(63 Md€ en 2018)

Déficit hors énergie et
matériel militaire : 34 Md€

Principaux clients

Allemagne : 70 Md€
 Etats-Unis : 42 Md€
 Italie : 38 Md€
 Espagne : 37 Md€

Principaux fournisseurs

Allemagne : 85 Md€
 Chine : 54 Md€
 Italie : 44 Md€
 Etats-Unis : 39 Md€

UE = 59 % des
exportations françaises

Principaux secteurs excédentaires

Aéronautique et spatial : 31 Md€
 Chimie, parfums, cosmétiques : 15 Md€
 Agroalimentaire : 8 Md€
 Pharmaceutique : 6 Md€

Principaux secteurs déficitaires

Energie : 45 Md€
 Electronique : 17 Md€
 Automobile : 15 Md€
 Textile, habillement et cuir : 12 Md€

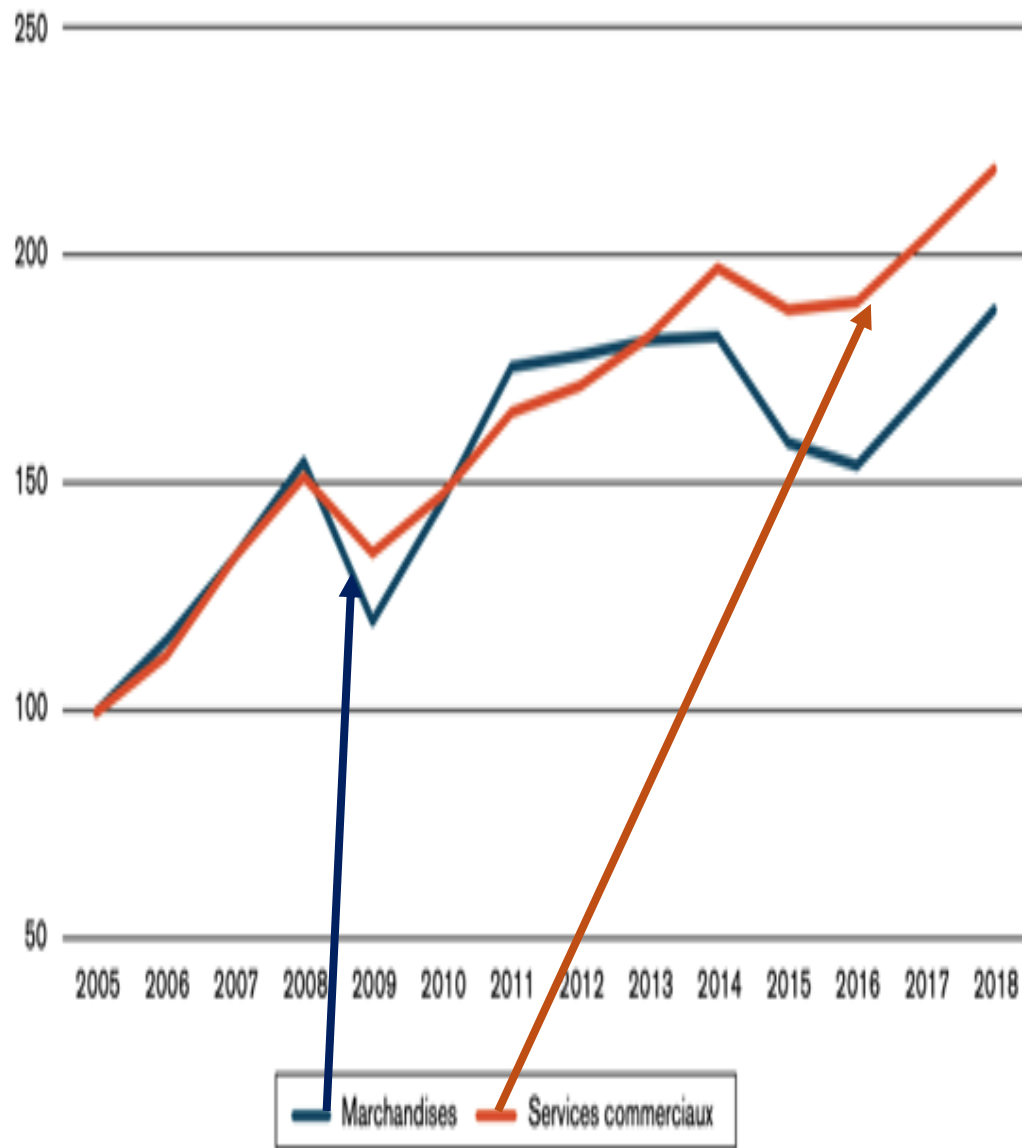
Exportations de services : **251 Md€**
Importations de services : **229 Md€**
Excédent commercial en services : **22 Md€**

Déficit courant
(biens, services, négoce, revenus dont
revenus d'IDE) :
18 Md€ (0,8 % du PIB)

Sources : Douanes françaises, Banque de France, OCDE

RAPPORT ANNUEL DU COMMERCE EXTÉRIEUR DE LA FRANCE • Février 2020

Evolution du commerce mondial de marchandises
et de services commerciaux
(Indices base ? _____)*



Evolution du commerce mondial de marchandises
et de services commerciaux
(Indices base ? _____)*

